



GÜNEYSU KAPTAN AHMET ERDOĞAN ANADOLU İMAM HATİP LİSESİ

HAFİZ YETİŞTİRME ve DERS BAŞARISINI DESTEKLEME PROJESİ

MAHALLİ SINAV

Adı : **Soyadı :**

Sınav Tarihi : 14.05.2016 **İmza :**

SINAV YÖNERGESİ

- 1: Sınav süresi 100 dakikadır.
- 2: Sınav toplam 80 sorudan oluşmakta olup ; Türkçe 15, Matematik 15, Fen ve Teknoloji 15, Sosyal Bilgiler 15, Din Kültürü ve Ahlak Bilgisi 10 ve İngilizce 10 Sorudan İbaredir.
- 3: Bütün sorular 4 şıklı çoktan seçmeli sorulardan oluşmaktadır.
- 4: Her sorunun puan değeri 1,25 dir.
- 5: Yanlış yapılan sorular doğru cevapları etkilememektedir.
Tüm soruları cevaplamanız lehinize olacaktır.
- 6: İlk 30 dakika ve son 15 dakika sınav salonundan öğrencilerin çıkması yasaktır.
- 7: İlk 30 dakikadan sonra geç kalan öğrenciler sınava alınmayacaklardır.
- 8: Sınav bitiminden 1 saat sonra isteyen öğrencilere kitapçıkları dağıtılacaktır.

İÇİNDEKİLER

- Sayfa 1-4 : Türkçe
Sayfa 5-7 : Matematik
Sayfa 8-10 : Din Kültürü ve Ahlak Bilgisi
Sayfa 11-13 : Fen ve Teknoloji
Sayfa 14-16 : Sosyal Bilgiler
Sayfa 17-18 : İngilizce

1. Aşağıdaki cümlelerin hangisinde mecaz anlamı bir kelime kullanılmamıştır?

- A) Terini sildi, oyuna kaldığı yerden devam etti.
- B) Babam bugünlerde bana çok kızgın.
- C) Arkadaşlarıma hemen ısındım.
- D) Yeni sınıfımda beni çok sıcak karşıladılar.

2. Aşağıdaki cümlelerin hangisinde eş sesli (sesteş) bir kelime kullanılmamıştır?

- A) İlk önce bu ülkenin dilini öğrenmelisin.
- B) Tarlaya tohum ekmek çok zevklidir.
- C) Bugün akşama kadar kitap okudum.
- D) Kır saçlı kadın, bebeği kucağına aldı.

3. Aşağıdaki cümlelerin hangisinde bir sözcüğün aldığı ek nedeniyle anlamı değişmemiştir?

- A) Yaşlı insanlara yardım etmeyi unutmamalıyız.
- B) Çölde susuz kalmayı düşünemiyorum.
- C) Kitaplığını düzenlemeyi unutmalısın.
- D) Pazar sabahı, erkenden yola çıktım.

4. Aşağıdaki cümlelerin hangisinde sebep-sonuç ilişkisi kurulmuştur?

- A) Çocuk eve gelmeyince babası çok telaşlandı.
- B) Köyden kente göç etmek zor olmalı.
- C) Ailemle birlikte Ankara'ya gittim.
- D) Karabaş bahçede koşup duruyor.

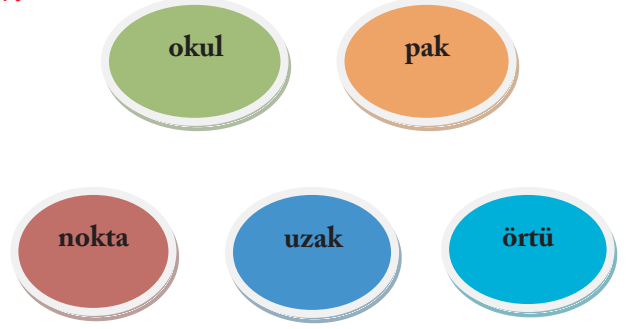
5. Aşağıdaki cümlelerin hangisinde büyük harflerin kullanımıyla ilgili bir yanlışlık yapılmıştır?

- A) Türkiye Büyük Millet Meclisi ne zaman açıldı?
- B) Bugün Dünya'nın Güneş'in etrafında döndüğünü öğrendim.
- C) Türk dil kurumu bilgilerini sürekli güncellemektedir.
- D) Bugün Minnoş'un yavruları oldu.

6. Aşağıdaki cümlelerden hangisi anlamli ve kurallı bir cümledir?

- A) Ödevlerimi babamla yaptık bugün.
- B) Bu yaz memlekete gidemeyeceğim.
- C) Bana ayrılığı hatırlatır sonbahar.
- D) Yarın okula gelmelisin mutlaka.

7.



Yukarıdaki kutucuklarda yazan kelimelerden bazılarının zıt anlamlısı yoktur.

Aşağıdaki seçeneklerden hangisinde zıt anlamlısı olmayan kelimeler bir arada verilmiştir?

A)



B)



C)



D)



8. Aşağıdaki cümlelerin hangisinde yazım yanlışı vardır?

- A) Bugün Gazi Üniversitesi Rektörlüğü'ne dilekçe yazdım.
- B) En sevdiğim arkadaşım Betül'ün mezuniyet töreni var.
- C) Ahmetler okuldan sonra pikniğe gittiler.
- D) Türkiye'de gezmeyi en çok istediğin yer neresi?

9. Aşağıdaki cümlelerin hangisinde terim anlamlı bir kelime yoktur?

- A) Bugün üçgen çeşitlerini öğrendim.
- B) Arkadaşım şiirinin üç mısrasını okumayı unuttu.
- C) Futbolcu penaltıyı kaçırdı.
- D) Arkadaşımın kaybolan hırkasını bulduk.

10.

“Bir gün okulumuza bir misafir geldi. Okuldaki öğretmenlerle tek tek tanıştı, onlarla sohbet etti. Akşam onların evine misafir oldu. Okulumuza gelen misafir, bizi her yıl ziyaret edeceğini söyledi.”

Yukarıdaki paragrafta koyu renkle yazılmış ve altı çizili olan kelimelerin eş anlamlıları hangi seçenekte sırasıyla verilmiştir?

- A) Hane-konuk-muallim-yuva-sene
- B) Hane- konuk-talebe-yuva-sene
- C) Mektep-konuk-muallim-hane-sene
- D) Mektep-konuk-müdür-hane-sene

11.

“Ahmet, sabah markete giderken yolda üç tane köpek gördü.”

Cümlesinde aşağıdaki hangi sorunun yanıtı yoktur?

- A) Ne? B) Nerede?
- C) Ne zaman? D) Niçin?

12. “Ağır” sözcüğü hangi cümlede mecaz anlamda kullanılmıştır?

- A) Ağır poşetleri taşımaktan çok yorulmuşum.
- B) Çantam bugün ağır olmadığı için kendim taşıyorum.
- C) Arkadaşım çok ağır konuştuğu için ona kırıldım.
- D) Paketler çok ağır, yardıma ihtiyacım var.

“Sonçipek ailesiyle birlikte, küçük evlerinde mümkün olduđunca mutlu bir yařam sürerler. Sonçipek akıllı, sevimli ve cana yakın bir kız olduđu için bütün mahalleli tarafından da sevilmetedir. Sonçipek hayvanları çok sevmektedir. Sonçipek bir gün ağaçtaki yuvasından düşmüş bir serçe yavrusu bulur. Onu çok sever ve evinde beslemeye başlar. Gün gelir minik serçe büyür ve kendisine bir eş bularak diđer serçelerin arasına karışır. Çok üzölen Sonçipek’e sık sık ziyaretine geleceđine dair söz verir.

Sonçipek’in babası, otladıđını satmış; hep birlikte, yeni otlaklar bulmak için göç etmek zorunda kalmışlardır. Bu yolculuktan dolayı çok üzölen Sonçipek’e, minik serçe, eři ve arkadaşları onlara yolculuk boyunca eşlik ederek, en büyük teselliği vermişlerdir. Sonçipek kısa zamanda çevresine alışır ve kendisini sevdireir.”

Necati CUMALI

13, 14 ve 15. soruları yukarıdaki metne göre yanıtlayınız.

13. Sonçipek ve ailesi niye göç etmek zorunda kalmışlar?

- A) Yaşadıkları yerden sıkıldıkları için
- B) Yeni otlaklar bulmak için
- C) Orada arkadaşı kalmadıđı için
- D) Minik serçe gittiđi için

14. Göç ederken yolculuk sırasında Sonçipek’i kim teselli etmiştir?

- A) Annesi
- B) Babası
- C) Mahalledeki komşuları
- D) Arkadaşları ve minik serçe

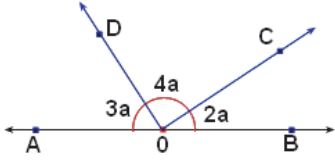
15. Aşağıdaki ifadelerden hangisi Sonçipek’in kişilik özelliđi ile çelişmektedir?

- A) Cana yakın olması
- B) İnsanlarla anlaşamaması
- C) Çevresine uyum sağlayabilmesi
- D) Hayvanları sevmesi

TÜRKÇE TESTİ SONA ERMİŐTİR.
LÜTFEN MATEMATİK TESTİNE GEÇİNİZ.

MATEMATİK SORULARI

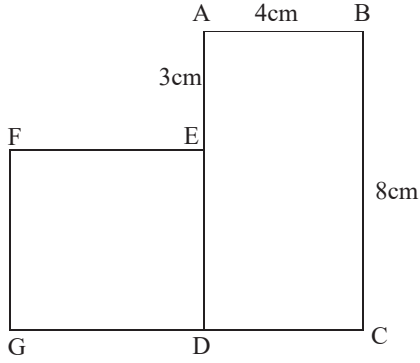
1.



Yukarıdaki şekilde 2a ile gösterilen COB açısı kaç derecedir?

- A) 40° B) 80° C) 20° D) 60°

2.

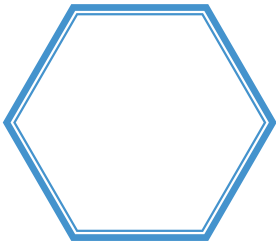


Yukarıdaki şekilde; ABCD dikdörtgen ve DEFG karedir.

Buna göre $|FE| + |DC| = ?$

- A) 15 cm B) 20 cm
C) 9 cm D) 11 cm


3.



Yukarıdaki şekle kaç tane simetri doğrusu çizilebilir?

- A) 4 B) 5 C) 6 D) 7

4.



Yukarıdaki şekillerden hangisi örüntüyü bozmaktadır?

- A) IV B) III C) II D) I

5.

328 979

Yanda Rize'nin 2015 yılındaki nüfusu verilmiştir.

Buna göre aşağıdakilerden hangisi yanlıştır?

- A) Sayı değerleri toplamı 38' dir.
B) Binler bölüğü 8' dir.
C) Yüzler basamağındaki sayının basamak değeri 900'dür.
D) Birler ve yüzler basamağındaki rakamların sayı değeri eşittir.

11.

- | | |
|------|--|
| I. | $25 \text{ cm} = 250 \text{ mm}$ |
| II. | $16 \text{ m} = 1\,600 \text{ mm}$ |
| III. | $45 \text{ cm } 14 \text{ mm} = 4\,514 \text{ mm}$ |

Yukarıdaki tabloda verilen bilgilerden hangisi ya da hangileri yanlıştır?

- A) Yalnız I B) I ve II
C) Yalnız III D) II ve III

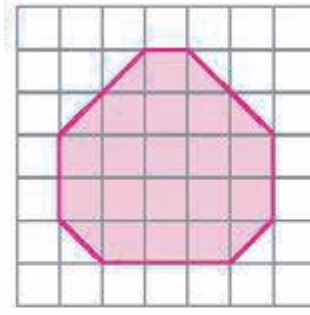
12.



Sayı doğrusundaki A noktasına karşılık gelen kesri gösteren şekil aşağıdakilerden hangisidir?

- A) B)
- C) D)

13.



Birim kareli kağıttaki boyalı şeklin alanı kaç birim karedir?

- A) 21
B) 20
C) 19
D) 18

14. Saat 22.40'da uyuyup , saat 07.30'da uyanan Yavuz ne kadar süre uyumuştur?

- A) 10 saat 30 dakika B) 8 saat 50 dakika
C) 10 saat 40 dakik D) 9 saat 50 dakika

15. Bir araç gideceği 864 km yolun $\frac{2}{6}$ sini gidiyor. Araç 20 km daha gittiğinde kaç km yolu kalmış olur?

- A) 308 km B) 288 km
C) 556 km D) 150 km

MATEMATİK TESTİ SONA ERMIŞTİR.
LÜTFEN DİN KÜL. VE AH. BİL. TESTİNE GEÇİNİZ.

1. Hz. Muhammed (s.a.v) şöyle buyurmuştur:
“*Temizlik imandandır.*”



Sevgili Peygamberimiz (s.a.v) bu sözüyle aşağıdakilerden hangisini ifade etmiştir?

- A) Temiz olmayan iman edemez.
- B) İman etmek için temiz olmak gerekir.
- C) Temizlik, imanın bir göstergesidir.
- D) İman, temiz olunca geçerli olur.

2. Aşağıdakilerden hangisi Fatiha Suresi'nde geçen konulardan biri değildir?

- A) Yalnız Allah'a (c.c) kulluk etmek.
- B) Anne - babaya iyi davranmak.
- C) Doğru yoldan ayrılmamak.
- D) Sadece Allah'a yalvarmak.

3. Allah'ın (c.c) bir ve tek olduğunu, eşi ve benzerinin olmadığını ifade eden söz aşağıdakilerden hangisidir?

- A) Kelime-i Tekbir
- B) Kelime-i Tevhit
- C) Kelime-i Şehadet
- D) Kelime-i Vahdet

4. Hz. Muhammed (s.a.v) daha doğmadan önce babasını, altı yaşında annesini kaybetti. O, yetim ve öksüz olarak önce dedesinin himayesinde, daha sonra amcasının himayesinde büyüdü. Gençlik yıllarında amcaları tarafından pek çok yardım gördü. Sevgili Peygamberimizin dokuz tane amcası vardı.

Aşağıdakilerden hangisi Peygamberimizin amcalarından biri değildir?

- A) Hz. Hamza
- B) Ebu Talip
- C) Vehb
- D) Zübeyir

5. Kur'an-ı Kerim'in kitap haline getirilmesi ve çoğaltılması ile ilgili aşağıdaki ifadelerden hangisi doğrudur?

- A) Kur'an, Peygamberimiz zamanında kitap haline getirildi, Hz. Osman zamanında çoğaltıldı.
- B) Kur'an, Peygamberimiz zamanında kitap haline getirildi, Hz. Ebu Bekir zamanında çoğaltıldı.
- C) Kur'an, Hz. Ebu Bekir döneminde kitap haline getirildi, Hz. Osman döneminde çoğaltıldı.
- D) Kur'an, Hz. Ömer döneminde kitap haline getirildi, Hz. Ebu Bekir döneminde çoğaltıldı.

6.



Hz. Muhammed'in (s.a.v) doğduğu ve yaşadığı çevrede haksızlıklar yaygındı. Kadınlar, hor görülüyor ve eziliyordu. Güçsüz ve kimsesiz insanlar haksızlığa uğruyor, esirlere ve kölelere çok kötü davranılıyordu. İşçi ve hizmetçilere ağır işler yüklenerek onlara eziyet ediliyordu. Tüm bu haksızlıklara engel olabilmek için Peygamberimiz, Erdemliler Topluluğu'na katılmıştır ve şöyle buyurmuştur: *"Kim bir kötülük görürse onu eliyle düzeltsin, bunu yapamazsa diliyle (sözüyle) düzeltsin, bunu da yapamazsa, en azından gönlünde o kötülüğe yer vermesin."*

Aşağıdaki atasözlerinden hangisi ya da hangileri Peygamberimizin bu sözüyle benzer anlamda değildir?

I	İyilik yap denize at, balık bilmezse Hâlık bilir.
II	Bana dokunmayan yılan bin yıl yaşasın.
III	Pişmiş aşım, ağrısız başım.
IV	Sana taşla vurana, sen aşla vur.

A) II - III

B) I - II

C) III - IV

D) I - IV

7.



Sevgili Peygamberimiz (s.a.v) kırk yaşına gelmişti. Allah (c.c) Miladi 610 yılı, Ramazan ayı Kadir gecesinde, Hira Mağarası'nda Melek Cebrail aracılığıyla bütün insanlığa gönderilen Kur'an'ın ilk ayetlerini Peygamberimize indirdi.

Peygamberimize indirilen, Kur'an-ı Kerim'in ilk ayetleri aşağıdaki surelerden hangisinin ilk beş ayetidir?

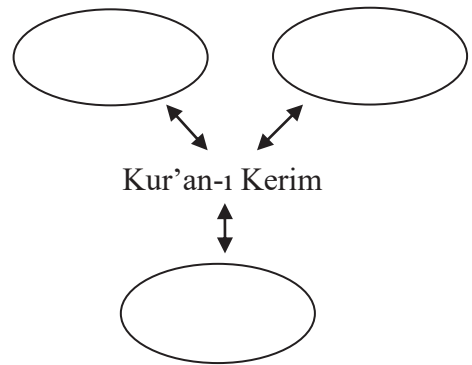
A) Alak Suresi

B) A'la Suresi

C) Fatıha Suresi

D) Fetih Suresi

8.



Yukarıdaki kavram haritasına Kur'an'ı Kerim'in iç düzeni ile ilgili kavramlar yazıldığında aşağıdakilerden hangisi dışarıda kalır?

A) Cüz

B) Durak

C) Sure

D) Mushaf

9.

“Yaratılanı severim
Yaratandan ötürü”



Yunus Emre'nin bu sözünü hayatında uygulamaya çalışan Ahmet, aşağıdakilerden hangisini yapmaz?

- A) Bisikletine arkadaşı Ali'yi de bindirir.
- B) Köpekten korktuğu için, köpek gördüğünde ona taş atar.
- C) Meyve yemek için erik ağacının dalını eğen arkadaşı Mustafa'yı uyarır.
- D) Kendisini iterek yere düşüren arkadaşı Büşra'ya küser ama daha sonra barışmak ister.

10.

Dinim İslam namaz, oruç, hac ve zekat gibi ibadetlerle insanlar arasında dostluk ve kardeşliğin oluşmasını amaçlamıştır.

Buna göre aşağıdaki eşleştirmelerden hangisi yanlıştır?

1	Namaz	Birlikte yaşama ve dayanışma gücü sağlar.
2	Oruç	İnsana, sabahtan-akşama kadar aç ve susuz kalabilmeyi öğretir.
3	Hac	Farklı ırk, dil ve kültürden insanları bir araya getirir.
4	Zekat	Zenginle-fakir arasındaki bağları güçlendirir.

- A) 3
- B) 4
- C) 1
- D) 2

DİN KÜL. VE AH. BİL. TESTİ SONA ERMIŞTİR.
LÜTFEN FEN VE TEKNOLOJİ TESTİNE GEÇİNİZ.





1. Aşağıdaki bilgilerden hangisi yanlıştır?

- A) Kemikler vücudumuzun dik durmasını sağlayan sert ve dayanıklı yapılardır.
- B) İskeletin tek görevi organlarımızı dış etkilerden korumaktır.
- C) Eklemler, kemikleri birbirine bağlar ve kemiklerin hareketini sağlar.
- D) Kaslar kemiklerimizin üzerini örten bir örtü gibidir.

2. Aşağıdakilerden hangisi soluk verirken havanın izlediği yoldur?

- A) Akciğer-soluk borusu- yutak-gırtlak-burun
- B) Akciğer-soluk borusu-gırtlak-yutak-burun
- C) Burun-yutak-gırtlak-soluk borusu-akciğer
- D) Akciğer -gırtlak-yutak-soluk borusu-burun

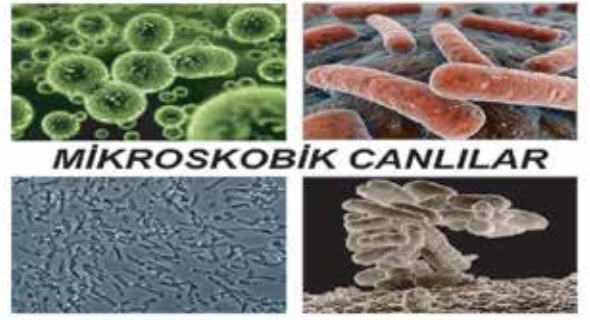
3.

I.		II.	
III.		IV.	

Yukarıda verilen aydınlatma araçlarının geçmişten günümüze doğru sıralaması aşağıdakilerden hangisidir?

- A) II-I-III-IV
- B) IV-III-II-I
- C) IV-I-II-III
- D) III-II-I-IV

4.



Mikroskopik canlılarla ilgili aşağıdaki verilen bilgilerden hangisi yanlıştır?

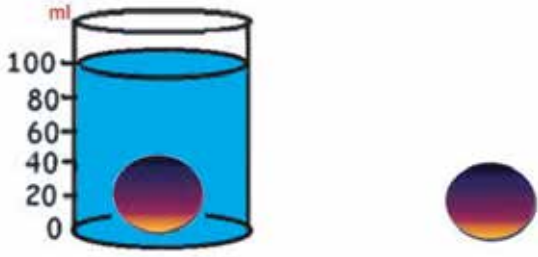
- A) Sütten yoğurt oluşmasını mikroskopik canlılar sağlar.
- B) Mikroskopik canlılar ancak mikroskopla görülebilir.
- C) Mikroskopik canlıların tamamı zararlıdır.
- D) Mikroskopik canlılar havada, suda, toprakta, yiyeceklerde ve canlıların vücudunda yaşarlar.

5. Aşağıdaki seçeneklerin hangisinde mıknatısla ilgili yanlış bir bilgi verilmiştir ?



- A) Mıknatısın N ve S olmak üzere iki kutbu vardır.
- B) Mıknatıs demir tozunu çeker.
- C) Mıknatıs iki parçaya bölündüğü zaman bir parçası N kutbu diğer parçası S kutbu olur.
- D) Mıknatısın aynı kutbu birbirini iter.

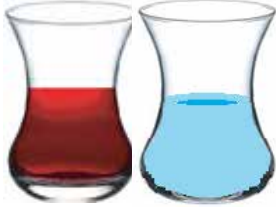
6.



Yukarıdaki dereceli silindire bilyeyi atmadan önce dereceli silindirin içindeki suyun hacmi 60 ml'dir. Bilyeyi dereceli silindirin içine atınca suyun hacim 100 ml oluyor. **Buna göre bilyenin hacmi kaç ml'dir?**

- A) 40 ml B) 30ml C) 25ml D) 45ml

7.



Yukarıdaki bardaklardan birinde sıcak çay diğesinde soğuk su bulunmaktadır. Bu bardaklar birbiri ile temas hâlinindedir. **Bu bardaklardaki sıvıların sıcaklık değışimi ile ilgili aşağıdakilerden hangisi söylenemez?**

- A) Çaydan suya doğru ısı akışı olur.
B) Çayın sıcaklığı artar.
C) Suyun sıcaklığı artar.
D) Çay soğur.

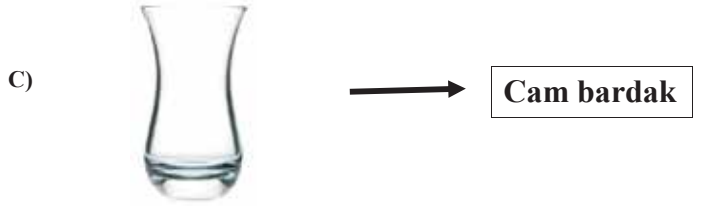

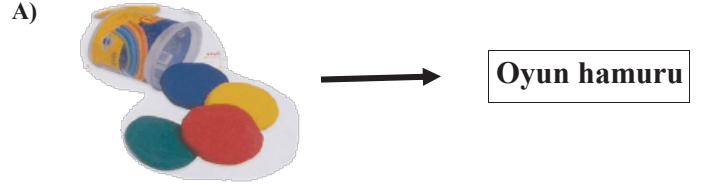
8.

1.	Erime sırasında madde dışarı ısı verir.
2.	Bütün cisimler aynı zamanda maddedir.
3.	Maddelerin ölçülebilir özelliğı sadece kütlelerdir.
4.	Donma sırasında madde dışarı ısı verir.

Yukarıdaki bilgilerden hangileri doğrudur?

- A) 1-2 B) 1-4 C) 2-3 D) 2-4

9. Aşağıdakilerden hangisi kuvvetin etkisi ortadan kalkınca eski hâline döner ?



10. Hareketli bir cisme hareketi ile aynı yönde kuvvet uygulandığında cisimde ne gibi değışikler gözlenir?

- A) Cisim yön değıştirebilir.
B) Cisim durabilir.
C) Cisim hızlanır.
D) Cisim yavaşlayabilir.

11.

- I. İçinde 30°C sıcaklıkta su bulunan kaba buz atılıyor.
II. 65°C sıcaklıkta su bulunan kaba 25°C de su ekleniyor.
III. 70°C sıcaklıkta su bulunan kaba 125 °C de demir parçası atılıyor.

Buna göre kaplardaki suyun sıcaklığında sırasıyla nasıl bir değişme gözlemlenir?

	I	II	III
A)	Azalır	Azalır	Artar
B)	Azalır	Artar	Azalır
C)	Artar	Artar	Azalır
D)	Artar	Artar	Artar

12.



Aşağıdakilerden hangisi iskeletimizin bölümlerinden değildir?

- A) Göğüs kafesi
B) Kafatası
C) Göz ve burun
D) Kollar ve bacaklar

13. Aşağıda verilen karışımlardan hangisi eleme yöntemi ile ayrılır?

- A) Nohut-su B) Zeytinyağı-su
C) Kum-çakıl taşı D) Hava

14. Kaslarla ilgili verilen aşağıdaki bilgilerden hangisi yanlıştır?

- A) Vücudumuza şekil verir.
B) Vücudumuzun üzerini örtü gibi örter.
C) Kasılıp gevşeme hareketi yapar.
D) Egzersiz yapmanın kaslarımıza etkisi yoktur.

15. Egzersiz yapan kişinin vücudunda aşağıdakilerden hangisi gözlenmez?

- A) Soluk alıp verme hızı yavaşlar.
B) Nabız atış sayısı artar.
C) Vücut ısısı artar.
D) Kalp atış hızı artar.

FEN VE TEKNOLOJİ TESTİ SONA ERMİŞTİR.
LÜTFEN SOSYAL BİLGİLER TESTİNE GEÇİNİZ.

SOSYAL BİLGİLER SORULARI

1.

YETENEKLER	Ahmet	Ayşe	Mehmet
RESİM	X	X	X
MÜZİK		X	
SPOR	X		X

Yukarıdaki tabloda üç arkadaşın yetenekli olduğu alanlar verilmiştir. Buna göre aşağıdakilerden hangisi doğrudur?

- A) Ahmet ile Mehmet'in yetenekleri aynıdır.
- B) Ayşe, Ahmet'ten daha yeteneklidir.
- C) Mehmet çok iyi şarkı söyler.
- D) Ahmet'in spora yeteneği yoktur.

2. Bir bireyin nüfus cüzdanında bulunan hangi bilgi, diğer nüfus cüzdanlarındakilerle hiçbir koşulda aynı olamaz?

- A) Kan Grubu
- B) Baba Adı
- C) Doğum Yeri
- D) T. C. Kimlik No

3.



Yukarıdaki şemada duygu belirten ifadeler takip edildiğinde hangi numaraya ulaşılabilir?



- A) 4
- B) 3
- C) 2
- D) 1

4.



Mondros Ateşkes Antlaşması sonrası mor (●) renkli bölgeyi hangi devlet işgal etmiştir?

- A) Yunanistan
- B) Ermenistan
- C) Fransa
- D) İngiltere

SOSYAL BİLGİLER SORULARI

5.



I II III IV

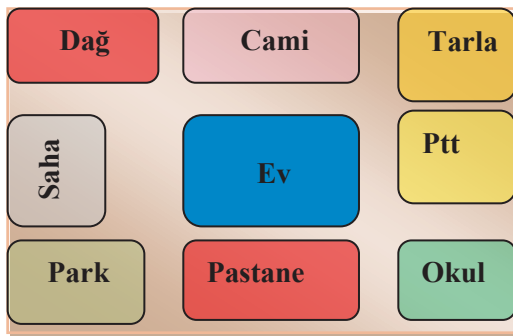
Eymen'in albümünden alınan bu resimlerin kronolojik olarak sıralanışı hangisidir?

- A) I - II - III - IV B) II - IV - III - I
C) III - IV - II - I D) III - IV - I - II

6. Kültür ile ilgili aşağıdaki verilenlerden hangisi yanlıştır?

- A) Kültür uzun yılların birikimi ile ortaya çıkar.
B) Her milletin kültürü farklıdır.
C) Kültür zaman içinde değişmez, aynı kalır.
D) Zeybek, horon kültürel öğelerimizdendir.

7.



Yukarıdaki krokiye göre aşağıdakilerden hangisi yanlıştır?

- A) Ev ,okulun kuzeybatısındadır.
B) Tarla, caminin doğusundadır.
C) Ptt ,okulun kuzeyindedir.
D) Park ,evin güneydoğusundadır.

8.

Yanda verilen unsur ile ilgili;



- I. Ulaşımı kolaylaştırmıştır.
II. İnsanların doğal çevreyi değiştirmesine örnektir.
III. Doğal bir unsurdur.

İfadelerinden hangisi söylenemez?

- A) Yalnız I B) I ve II
C) Yalnız III D) I , II ve III

9.

- I. El feneri
II. Bandajlar ve pansuman malzemesi
III. Düdük
IV. Oyuncak

Deprem çantasında verilenlerden hangileri yer almalıdır?

- A) I, II B) I, II ve III
C) Yalnız IV D) I, II, III ve IV

10. Bütçe yapılmadığında aşağıdakilerden hangisi gerçekleşir?

- A) Gelir ve gider açıkça görülür.
B) Tasarruf yapılabilir.
C) Gelir ve gider denkleşir.
D) Ailenin para biriktirmesi zorlaşır.

SOSYAL BİLGİLER SORULARI

11.



- Domatesten salça yapılması
- Salçanın marketlere taşınması
- İnsanların marketteki salçayı alması

Yukarıdaki boşluklara sırasıyla hangileri gelmelidir?

- A) Üretim – dağıtım – tüketim
B) Tüketim – üretim – dağıtım
C) Tüketim – dağıtım – üretim
D) Üretim – tüketim– dağıtım

12.

	SAĞLIK	TEMİZLİK	EĞİTİM
I	X		
II			X
III		X	

Yukarıdaki tabloda sağlık, ulaşım, eğitim alanında kullandığımız ürünler verilmiştir. Buna göre I, II ve III ile gösterilen ürünler aşağıdakilerden hangisinde doğru gruplanmıştır?

- | | I | II | III |
|----|------------------|--------------------|--------------------|
| A) | Steteskop | Çamaşır Makinesi | Projeksiyon cihazı |
| B) | Steteskop | Projeksiyon cihazı | Çamaşır Makinesi |
| C) | Çamaşır Makinesi | Projeksiyon cihazı | Steteskop |
| D) | Steteskop | Çamaşır Makinesi | Röntgen cihazı |

13. I. Güneş yılı esas alınmıştır.
II. Hz.Muhammed'in doğumu ile başlar.
III. Bir yıl on üç aydır.

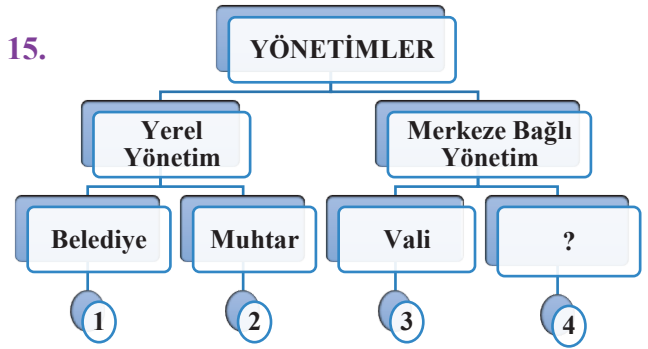
Yukarıda verilen bilgilerden hangisi Miladi takvimle ilgili söylenebilir?

- A) Yalnız I B) Yalnız II
C) I ve III D) I, II ve III

14. Aşağıdakilerden hangisi resmi kurum değildir?

- A) Milli Eğitim Bakanlığı
B) Emniyet Müdürlüğü
C) Kaptan Ahmet Erdoğan AİHL
D) TEMA

15.



Yukarıdaki şemada 4 numaralı kutuya hangisi gelmelidir?

- A) İl Özel İdaresi B) Muhtar
C) Kaymakam D) Zabıta

SOSYAL BİLGİLER TESTİ SONA ERMIŞTİR.
LÜTFEN İNGİLİZCE TESTİNE GEÇİNİZ.

1.



A:

B: Yes, you may.

Görsele göre diyalog aşağıdaki hangi cümle ile tamamlanmalıdır?

- A) Thank you.
- B) May I take your apple?
- C) Sorry, not right now.
- D) Are you ready?

2. Aşağıdaki görseldeki öğretmenin söylediği cümle hangisi olabilir?



- A) Be quiet, please.
- B) Sit down!
- C) Clean the board, please.
- D) Turn off the lights.

3.

A: Where are you from Brad?

B: I am from England.

A: Where is it?

B:

Yukarıdaki diyalogu tamamlayan en uygun cümle aşağıdakilerden hangisidir?

- A) I am Susan.
- B) I am ten years old.
- C) It is in Europe.
- D) I am fine.

4. Görseldeki kız için aşağıdakilerden hangisi söylenebilir?



- A) She can play the video.
- B) She likes riding a horse.
- C) She can play basketball.
- D) She likes coloring.

5.

A: I like listening to music.
the CD's?

B: Here you are.

Yukarıdaki diyalogu tamamlayan en uygun ifade aşağıdakilerden hangisidir?

- A) Can you give me
- B) May I
- C) Can she listen
- D) Can you dance

6. Aşağıdakilerden hangisi yanlıştır?

- A) A parrot can fly
- B) A bird can swim.
- C) A dolphin cannot walk.
- D) An elephant cannot fly.

7. Görseldeki saati ifade eden cümle aşağıdakilerden hangisidir?



- A) It is five o'clock.
- B) It is half past five.
- C) It is quarter to five.
- D) It is quarter past five.

8. Görsel göre boşluk aşağıdaki hangi ifade ile tamamlanmalıdır?



The ball isthe box.

- A) İn
- B) on
- C) in front of
- D) between

9. Görseli ifade eden sözcük aşağıdakilerden hangisidir?



- A) pour
- B) peel
- C) plant
- D) paste

10. Aşağıdaki cümleyi tamamlayan en uygun sözcük hangisidir?

I am a nurse and Iat a hospital.

- A) walk
- B) watch
- C) jump
- D) work

TEST SONA ERMIŞTİR.
LÜTFEN CEVAPLARINIZI KONTROL EDİNİZ.



**GÜNEYSU KAPTAN AHMET ERDOĞAN
ANADOLU İMAM HATİP LİSESİ**