



# GÜNEYSU KAPTAN AHMET ERDOĞAN ANADOLU İMAM HATİP LİSESİ

HAFİZ YETİŞTİRME VE AKADEMİK BAŞARIYI DESTEKLEME PROJESİ

## MAHALLİ SINAV

**Adı :** ..... **Soyadı :** .....

**Sınav Tarihi :** 13.05.2017 **İmza :** .....

### SINAV YÖNERGESİ

1. Sınav süresi 100 dakikadır.
2. Sınav toplam 80 sorudan oluşmakta olup ; Türkçe 15, Matematik 15, Fen Bilimleri 15, Sosyal Bilgiler 15, Din Kültürü ve Ahlak Bilgisi 10 ve İngilizce 10 sorudan ibarettir.
3. Bütün sorular 4 şıklı çoktan seçmeli sorulardan oluşmaktadır.
4. Her soru, 1,25 puan değerindedir.
5. Yanlış yapılan sorular doğru cevapları etkilememektedir. *(Tüm soruları cevaplamanız lehinize olacaktır.)*
6. İlk 30 dakika ve son 15 dakika sınav salonundan öğrencilerin çıkması yasaktır.
7. İlk 30 dakikadan sonra geç kalan öğrenciler sınava alınmayacaklardır.
8. Sınav bitiminden 1 saat sonra isteyen öğrencilere kitapçıkları dağıtılacaktır.

### İÇİNDEKİLER

- Sayfa 1-4 : Türkçe  
Sayfa 5-8 : Matematik  
Sayfa 9-12 : Fen Bilimleri  
Sayfa 13-16 : Sosyal Bilgiler  
Sayfa 17-19 : Din Kültürü ve Ahlak Bilgisi  
Sayfa 20-22 : İngilizce

Bu sabah bahçede karşıma  
Küçük bir serçe kuşu geldi;  
Havuzun taşına kondu,  
Bir içti, bir doğruldu,  
Nasıl da korkuyordu.

Sen hiç korkma serçe kuşu,  
Suyunu rahat rahat iç,  
Sıhhat, afiyetle uç,  
İnsanoğlu çeşit çeşit  
Beş parmağın beşi bir mi?

Necati CUMALI

**1 ve 2. soruları yukarıdaki şiire göre yanıtlayınız.**

**1. Şiirde insanlarla ilgili hangi özelliğe dikkat çekilmiştir?**

- A) Parmak uzunluklarının farklı olduğuna
- B) Sağlıklı, sıhhatli olduklarına
- C) Çok iyi yüzme bildiklerine
- D) Farklı farklı olduklarına

**2. Şiirin konusu aşağıdaki görsellerden hangisi olabilir?**


A)



B)



C)



D)



3. “Kardeşimle oynamayı çok seviyorum fakat derslerime çalışmalıyım.”

**Yukarıdaki cümlede geçen kelimelerden hangisinin tek başına anlamı yoktur?**

- A) oynamayı  
B) fakat  
C) derslerime  
D) çok
4. **Aşağıdaki cümlelerden hangisinin sonuna soru işareti (?) konmalıdır?**

- A) Ne zaman sana kötü davrandık  
B) Eve gittiklerini gördüm  
C) Törene kimin geldiğini bilmiyorum  
D) Ne aradığını söylemedi

5. **Aşağıdaki cümlelerin hangisinde karşılaştırma yapılmıştır?**

- A) Annemle ablam birlikte alışverişe gittiler.  
B) Abim doğa resimlerini çok güzel yapar.  
C) Macera kitaplarını masallardan daha çok severim.  
D) Kardeşim, babaannemin yaptığı gözlemlere bayılır.

6.

1	Beşik	a	Yat
2	Çek	b	Taş
3	Şanlı	c	Deniz
4	Ak	d	Bayıldı
5	İmam	e	Urfa

Yukarıdaki kelimeler eşleştirilerek birleşik kelimeler oluşturulacaktır.

**Doğru eşleştirme aşağıdakilerden hangisidir?**

- A) 1 - b  
2 - c  
3 - a  
4 - e  
5 - d

- B) 1 - b  
2 - a  
3 - e  
4 - c  
5 - d

- C) 1 - a  
2 - c  
3 - d  
4 - b  
5 - e

- D) 1 - c  
2 - b  
3 - a  
4 - e  
5 - d

7. Esmâ, istediği kitabı bulmak için Rize’deki tüm kitapçıları dolaştı. Bir ara yanındaki arkadaşına “**Ayaklarıma kara sular indi.**” dedi.






**Esmâ’nın kullandığı bu deyim aşağıdakilerden hangisini anlatmaktadır?**

- A) Yürürken yolların çamurlu olduğunu  
B) Yoldaki suların ayaklarında leke oluşturduğunu  
C) Çok yağmur yağdığını  
D) Yürümekten çok yorulduğunu












8. Aşağıdaki cümlelerin hangisinde aldığı ek nedeniyle anlamı değişen bir sözcük yoktur?

- A) Kömürlükte ışık yandı.
- B) Karlı kış günlerini özleyorum.
- C) Evimiz köftecinin yanında.
- D) Akşam teyzeme gideceğim.

9.

-  Kitap okumayı çok seviyorum.
-  Kalbimiz göğüs kafesinin içindedir.
-  Bir yılda dört mevsim var.
-  En sevdiğim ders Türkçedir.
-  Ay, Dünya'nın uydusudur.

Yukarıdaki cümlelerin hangilerinde nesnel yargı vardır?

- A)  – 
- B)  –  – 
- C)  –  – 
- D)  –  – 

10. Aşağıdaki cümlelerin hangisinde burun sözcüğü gerçek anlamda kullanılmıştır?

- A) Babamın burnu kanadı.
- B) Söylediklerime burun kıvrıyor.
- C) Burnu havada olanlardan hoşlanmıyorum.
- D) Kimseyi dinlemedi, burnunun dikine gitti.

11.

- I. terbiyeden daha iyi
- II. bir miras bırakamaz
- III. hiçbir anne baba
- IV. çocuğuna güzel bir

Yukarıda ifadelerle anlamli ve kurallı bir cümle oluşturulmak isteniyor.

Doğru sıralama aşağıdakilerden hangisidir?

- A) II - III - I - IV
- B) III - IV - I - II
- C) III - I - II - IV
- D) I - II - III - IV

12. Aşağıdaki cümlelerin hangisinde “köşe” sözcüğü diğerlerinden farklı anlamda kullanılmıştır?

- A) Bu işi başarırsa Ali Bey köşeyi döner.
- B) Okulun köşesine kamera takıldı.
- C) Çiçeği odanın köşesine yerleştirdik.
- D) Bakkal, köşeyi dönünce hemen sağda.

13.

dost	çay	ocak	sınav
yüz	rüya	ben	kalem

Yukarıdaki tabloda yazılı olan kelimelerden eş sesli (sesteş) kelimeler maviye, eş sesli olmayanlar ise sarıya boyanıyor.

**Doğru boyama işlemi sonrasında nasıl bir sonuç ortaya çıkar?**

- A)
- B)
- C)
- D)

14. “-ler” eki aşağıdaki cümlelerin hangisine abartılı bir anlam katmıştır?

- A) Öğrenciler geziye katıldı.
- B) Arkadaşlarla çok eğlendik.
- C) Annemi dünyalar kadar seviyorum.
- D) Kitapları dolaba koydum.

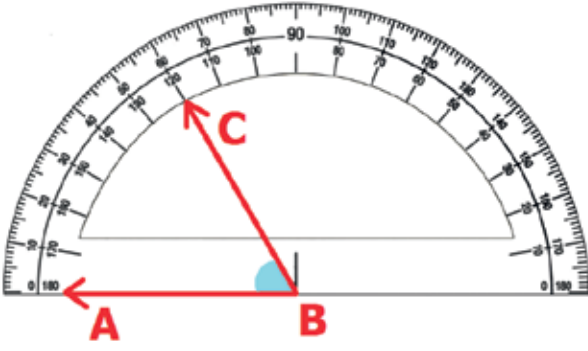
15. İşin içinde olmayanlara güzel, hoş ve eğlenceli gelen bazı işler; işin içinde olanlar için oldukça zor olabilir. Bir işin dışarıdan görüldüğü gibi olmadığını anlamak için o işin içinde olmak gerekir.

**Yukarıda açıklaması verilen atasözü hangisidir?**

- A) Bugünün işini yarına bırakma.
- B) Davulun sesi uzaktan hoş gelir.
- C) El elden üstündür.
- D) Gülme komşuna gelir başına.

TÜRKÇE TESTİ SONA ERMİŞTİR.  
MATEMATİK TESTİNE GEÇİNİZ.

1.



Yukarıdaki açı ölçerde gösterilen ABC açısı kaç derecedir?

- A) 30    B) 60    C) 90    D) 120

2.



Ordu-İstanbul arasında sefer yapan bir otobüs saat 13.40'ta Ordu'dan yola çıkmıştır. Otobüs İstanbul'a ulaştığında saat 00.10'u göstermektedir.

Buna göre Ordu-İstanbul arası ne kadar sürmüştür?

- A) 10 saat 30 dakika    B) 10 saat 50 dakika  
C) 11 saat 30 dakika    D) 10 saat 40 dakika

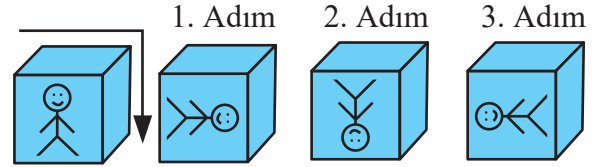
3.

8	0	2	5	7	3
---	---	---	---	---	---

Yukarıdaki rakamları birer kez kullanarak oluşturulabilecek altı basamaklı, en küçük tek sayının birler basamağı ile binler basamağındaki rakamların toplamı aşağıdakilerden hangisidir?

- A) 8    B) 10  
C) 11    D) 35

4.



Yukarıdaki küp ok yönünde çevrilerek örüntü oluşturuluyor. Çevirme işleminin 1., 2. ve 3. adımı gösterilmiştir.

Bu örüntünün 6. adımında küp üzerinde hangi görüntü oluşur?

- A)    B)   
C)    D)

5.



2023 yılında 17 yaşında olacağım.  
Ben doğduğumda babam 31 yaşındaydı.

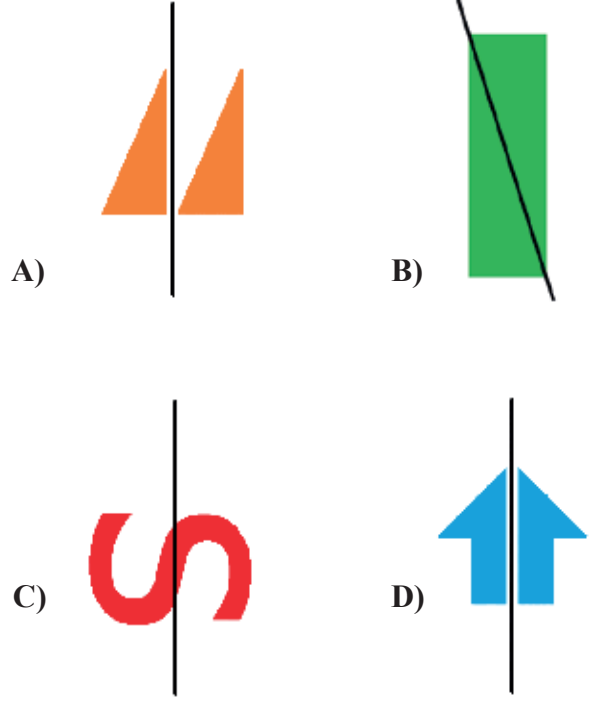
Zeynep ile babasının 2023 yılındaki yaşları toplamı aşağıdakilerden hangisidir?

- A) 48                      B) 53  
C) 54                      D) 65

6. En yakın onluğa yuvarlandığında 2040 olan dört basamaklı en büyük çift sayı aşağıdaki seçeneklerden hangisinde doğru verilmiştir?

- A) 2044                      B) 2042  
C) 2038                      D) 2046

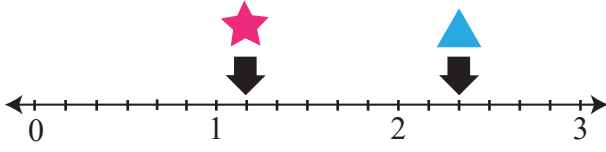
7. Aşağıdaki şekillerden hangisinin simetri doğrusu doğru çizilmiştir?



8.  $7049 - \square < 37$  olduğuna göre  $\square$  yerine yazılabilecek en büyük sayı kaçtır?

- A) 36                      B) 38  
C) 7013                      D) 7048

9.



Yukarıdaki sayı doğrusu üzerinde **★** ve **▲** ile gösterilen kesirler hangi seçenekte doğru verilmiştir?

- |    |               |                |
|----|---------------|----------------|
|    | <b>★</b>      | <b>▲</b>       |
|    | —             | —              |
| A) | $\frac{1}{7}$ | $\frac{14}{6}$ |
| B) | $\frac{1}{7}$ | $\frac{2}{7}$  |
| C) | $\frac{7}{6}$ | $\frac{14}{6}$ |
| D) | $\frac{1}{6}$ | $\frac{2}{14}$ |

10.

$$\begin{array}{r} AAA \\ ACA \\ + BCA \\ \hline 2004 \end{array}$$

Yukarıda verilen işleme göre ABC üç basamaklı sayısı kaçtır?

- |        |        |
|--------|--------|
| A) 285 | B) 825 |
| C) 528 | D) 852 |

11.



Bir sınıfta 16 sıra vardır. Öğrenciler, 14 sıraya ikişerli, geriye kalan sıralara da tekli oturuyorlar.

**Bu sınıfa, İstanbul'dan Ali ve Şenay adında iki öğrenci daha gelirse sıralara kaçlı oturmak gerekir?**  
(Sıralar iki kişiliktir.)

- |      |      |
|------|------|
| A) 1 | B) 2 |
| C) 3 | D) 4 |

12.

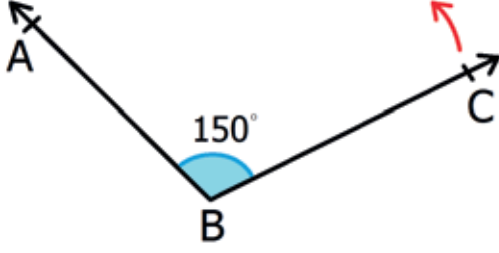
$$\left(4\frac{6}{9} - \frac{2}{9}\right) + 1\frac{3}{9}$$

Yukarıdaki işlemin sonucu kaçtır?

- |                   |                   |
|-------------------|-------------------|
| A) $5\frac{7}{9}$ | B) $\frac{12}{9}$ |
| C) $3\frac{4}{7}$ | D) $1\frac{8}{9}$ |



13.



Yukarıdaki ABC açısı  $150^\circ$ 'lik bir açıdır.

**ABC açısı, BC ışımından kırmızı ok yönünde kaç derece daraltılırsa dik açı oluşur?**

- A)  $60^\circ$                       B)  $50^\circ$   
C)  $90^\circ$                       D)  $80^\circ$

14. Ahmet'in 205 tane bilyesi vardır. Ahmet bilyelerini 20 arkadaşına eşit olarak dağıtıyor.

**Bu durumda arkadaşlarına kişi başı kaç bilye düşer Ahmet'in kaç bilyesi kalır?**

	<u>Kişi başı düşen bilye</u>	<u>Ahmet'te kalan bilye</u>
A)	1	5
B)	5	10
C)	10	5
D)	10	0

15.



Mine'nin 45 lirası vardır. Elif'in parası ise Mine'nin parasının 6 katıdır.

**Mine ile Elif paralarını birleştirip 9 liralık kitaplardan kaç tane alabilir?**

- A) 15                              B) 20  
C) 30                              D) 35

MATEMATİK TESTİ SONA ERMİŞTİR.  
FEN VE TEKNOLOJİ TESTİNE GEÇİNİZ.

1. Bazı cisimlere kuvvet uygulandığında şekilleri değişir. Kuvvetin etkisi ortadan kalktığında cisimler tekrar eski şeklini alır.

Aşağıdakilerden hangisi yukarıdaki tanıma uygun değildir?



2. I. Tahta helikopter  
II. Cam bardak  
III. Bulaşık süngeri  
IV. Pamuklu oyuncak ördek

Yukarıdakilerden hangileri kırılma özelliğine sahip değildir?

- A) I, II      B) II, III  
C) I, III      D) III, IV

3. Aşağıdaki özelliklerden hangisi maddenin gaz halinin özelliklerinden değildir?

- A) Şekil verilebilir.  
B) Belirli şekilleri yoktur.  
C) İçine konuldukları kabı doldururlar.  
D) Akışkandırlar.

4.  $V_1 = 50 \text{ ml}$

$V_2 = 85 \text{ ml}$



Betül dereceli kap içerisine 50 ml su dolduruyor. Suyun içerisine ufak taş parçası atıyor. Su seviyesinin 85 ml'ye yükseldiğini gözlemliyor.

Ufak taş parçasının hacminin 2 katının 21 fazlası kaç eder?

- A) 81      B) 91      C) 101      D) 65

5. Aşağıdaki görsellerden hangisi karışım değildir?

A)



B)



C)



D)



6. Yanlış yerde, yanlış zamanda, yanlış yönde, yanlış miktarda yapılan aydınlatma ..... adlandırılır.

Yukarıdaki noktalı yere aşağıdakilerden hangisi getirilmelidir?

- A) ışık kirliliğiyle      B) ses kirliliğiyle  
C) çöp kirliliğiyle      D) çevresel atıklarla

7. Aşağıdaki eşleştirmelerden hangisi yanlıştır?

A)

Steteskop	Tıpta iç organlarımızın sesini duyarız.
-----------	---

B)

Ultrason	İç organlarımızın görüntülerini görürüz.
----------	--

C)

Sonar cihazı	Denizlerdeki batık nesnelerin yerlerini belirlemede kullanılır.
--------------	---

D)

Mp3 çalar	Bir ucu dar, diğer ucu geniş, koni şekli sayesinde sesin daha yüksek şiddetle iletilmesini sağlar.
-----------	--

8. \* Hareketleri yapmamızı sağlayan ve iskeletimizi oluşturan kemikleri birbirine bağlayan yapıya ..... denir.

\* Kemiklerden oluşan, vücuda şekil veren, destek sağlayan, canlıların hareket etmesine yardımcı olan, dik durmamızı sağlayan yapıya ..... denir.

Yukarıdaki noktalı yerlere sırasıyla hangi kelimeler getirilmelidir?

- A) eklem - kas  
B) iskelet - kemik  
C) eklem - iskelet  
D) kemik - kas

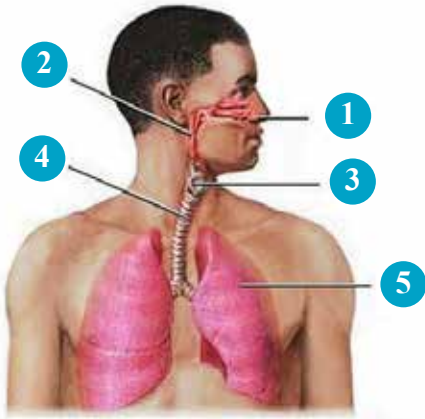
9.



Aşağıdaki ikililerden hangisi iskeletin bölümlerinden biri değildir?

- A) Kafatası - Omurga
- B) Göğüs kafesi - Kol ve Bacaklar
- C) Omurga - Göğüs kafesi
- D) Kol ve Bacaklar - Eklemler

10.



Yukarıdaki şekilde soluk alıp vermede görevli yapı ve organlar numaralandırılmıştır.

**2 ve 4 numaralı yapı ve organlarımız nelerdir?**

- A) Yutak - Akciğerler
- B) Yutak - Soluk borusu
- C) Gırtlak - Akciğerler
- D) Burun - Soluk borusu

11.

- \* Kalp atışının hızlanması nabız atışını azaltır.
- \* Kan, vücudumuzun ihtiyacı olan oksijeni ve besinleri taşır.
- \* Kalbin pompaladığı kanın damarlara yaptığı etkiye nabız denir.
- \* Doktorun sırtımızı ve göğsümüzü dinlediği alete stetoskop denir.

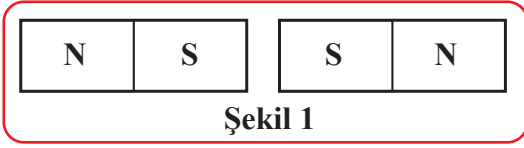
Yukarıdaki ifadelerden kaç tanesi doğrudur?

- A) 1      B) 3      C) 2      D) 4

12. Aşağıdakilerden hangisi mikroskobik canlıların olumlu etkilerinden değildir?

- A) Besinlerin küflenmesine neden olmaları.
- B) Yoğurdu mayalamaları.
- C) Kuruyan yaprakları parçalayıp toprağa karıştırmaları.
- D) Sütten peynir yapmaları.

13.



Yukarıda mıknatısların konumu verilmiştir.

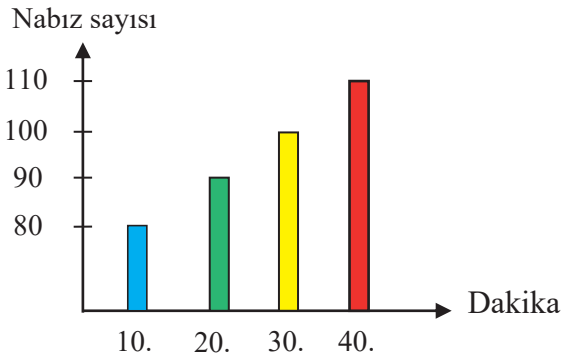
Buna göre aşağıdakilerin hangisi söylenir?

**Şekil 1**

**Şekil 2**

- |          |       |
|----------|-------|
| A) İter  | İter  |
| B) Çeker | İter  |
| C) Çeker | Çeker |
| D) İter  | Çeker |

14.

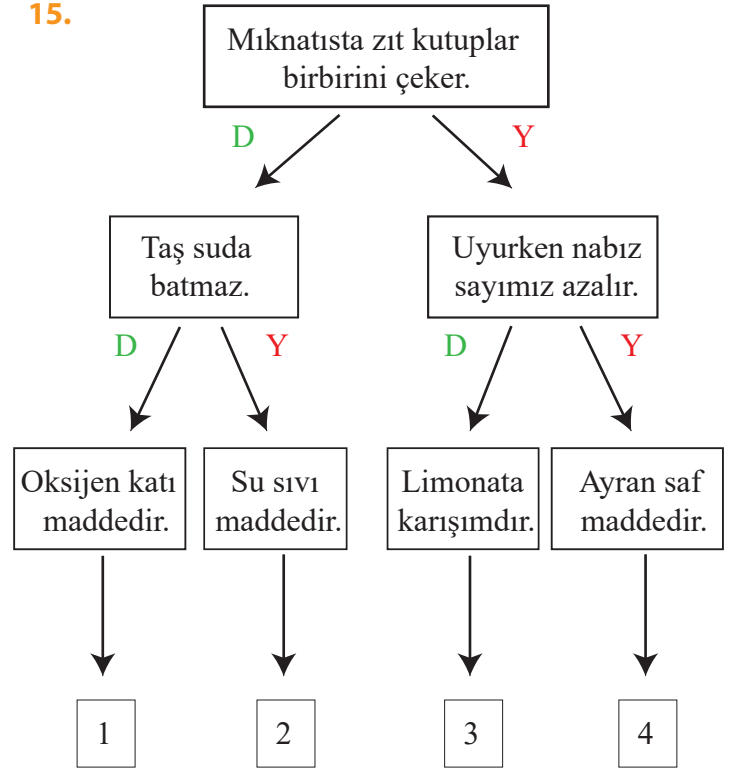


Yukarıdaki grafikte Ali'nin 10 dakika aralıklarla ölçülen nabız sayısı verilmiştir.

Aşağıdakilerden hangisi söylenemez?

- A) Ali'nin nabız sayısının en düşük olduğu 10. dakikadır.
- B) 20. ve 40. dakikadaki nabız sayısının farkı 20'dir.
- C) 20. ve 30. dakikadaki nabız sayısının toplamının 5 fazlası 196'dır.
- D) 30. dakikadaki nabız sayısı 100'dür

15.



Yukarıda verilen tanılayıcı dallanmış ağaçtaki doğru çıkışı bulunuz?

- A) 1 B) 2 C) 3 D) 4

FEN VE TEKNOLOJİ TESTİ SONA ERMIŞTİR.  
SOSYAL BİLGİLER TESTİNE GEÇİNİZ.

1. Aşağıdakilerden hangisi bireysel farklılıklarımızdan değildir?

- A) Herkesin saçının olması.
- B) Ali'nin kıvrıkcık saçlı olması.
- C) Ayşe'nin sarı saçlı olması.
- D) Veli'nin uzun boylu olması

2.

I.	Parmak izi
II.	Göz rengi
III.	Avuç içi çizgileri
IV.	Göz retinası

Yukarıdakilerden hangisi veya hangileri biyolojik kimlik kartımızı oluşturan öğeler arasındadır?

- A) I, II
- B) I, II, III
- C) I, II, IV
- D) I, III, IV

3. Nesnelerin, olayların, durumların veya kişilerin iç dünyamızda uyandırdığı izlenimlere ..... denir.

Yukarıdaki noktalı yere aşağıdakilerden hangisi gelmelidir?

- A) Düşünce
- B) Durum
- C) Duygu
- D) Olay

4.

I.	Havza Genelgesi
II.	Erzurum Kongresi
III.	Amasya Genelgesi
IV.	Sivas Kongresi


Yukarıdaki olayların kronolojik sıralaması nasıl olmalıdır?

- A) I, III, II, IV
- B) I, III, IV, II
- C) I, IV, III, II
- D) IV, I, III, II

5. Aşağıdaki bilgilerden hangileri nüfus cüzdanının ön yüzünde bulunmaz?

- A) T.C. kimlik numarası
- B) Kan grubu
- C) Adı ve soyadı
- D) Doğum yeri

6. Aşağıdaki görsellerden hangileri milli kültürümüzün öğelerinden değildir?



7. Aşağıdaki görsellerden hangisi tarihte Türklerin oynadığı oyunlardan değildir?



8. Mustafa Kemal, İstanbul Boğazı'nda demirlemiş düşman gemilerini görünce "*Geldikleri gibi giderler.*" sözünü söylemişti.

**Bu sözü hangi olaydan sonra söylemiştir?**

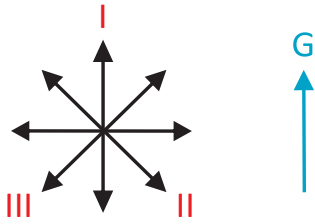
- A) Mondros Ateşkes Antlaşması
- B) Uşi Antlaşması
- C) Lozan Barış Antlaşması
- D) Kurtuluş Savaşı

9. Gölgemizin en kısa olduğu vakit, öğle vaktidir.

Türkiye’de öğle vaktinde gölgemiz hangi yönü gösterir?

- A) Doğu  
B) Batı  
C) Kuzey  
D) Güney

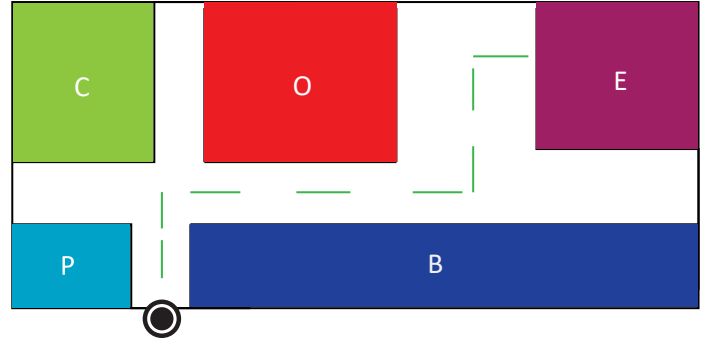
10.



Yukarıdaki yön oku “güneyi” gösterdiğine göre numaralı oklar hangi yönü göstermektedir?

	I	II	III
A)	Güney	Kuzeydoğu	Kuzeybatı
B)	Güney	Güneydoğu	Güneybatı
C)	Doğu	Batı	Kuzeydoğu
D)	Güney	Kuzeybatı	Kuzeydoğu

11.



C = Cami      P = Park  
O = Okul      B = Bakkal  
E = Ev

Noktalı yerden hareket eden Ali, çizgileri takip ederek evine gitmek istiyor.

Ali sırasıyla hangi yönleri kullanarak evine gitmiştir?

- A) Kuzey - Doğu, Kuzey, Doğu  
B) Güney, Batı, Güney, Batı  
C) Doğu, Batı, Kuzey, Güney  
D) Batı, Kuzey, Batı, Kuzey

12. Aşağıdakilerden hangisi bilinçli tüketicinin yapmaması gereken bir davranıştır?

- A) Alış-veriş yaparken aile bütçesini aşmamaya özen gösterir.  
B) Ürünlerin son kullanma tarihlerine dikkat eder.  
C) Her istediğini alması için ailesine baskı yapar.  
D) Ayağını yorganına göre uzatır.



13. Aşağıdakilerden hangisi Türklerin kullandığı takvimlerden değildir?

- A) 12 Hayvanlı Takvim
- B) Arkaik takvim
- C) Hicri takvim
- D) Miladi takvim

14. Aşağıda yer alan kurum ve kuruluşların hangisinin faaliyeti yanlış verilmiştir?

- A) **LÖSEV** Lösemi hastası çocukların ihtiyaçlarına çözüm bulur.
- B) **YEŞİLAY** Ormanları yeşillendirmek için çalışma yapar.
- C) **TÜRK KIZILAYI** Savaş ve doğal afetlerde ihtiyacı olanlara yardım eder.
- D) **TEV** Başarılı öğrencilere öğrenimleri boyunca burs verir.

15. Aşağıdaki ikililerden hangisinde yerel yönetim birimleri bir arada verilmiştir?

- A) Muhtarlar - Belediye Başkanı
- B) Muhtarlar - Kaymakam
- C) Belediye Başkanı - Kaymakam
- D) Vali - Kaymakam

SOSYAL BİLGİLER TESTİ SONA ERMİŞTİR.  
DİN KÜL. VE AH. BİL. TESTİNE GEÇİNİZ.

1. **Kur'an-ı Kerim'in 108. suresidir.**
- Kur'an-ı Kerim'in en kısa suresidir.**
- Surenin adı; bereket, şan, şeref anlamlarına gelir.
- Namaz kılmak ve Kurban kesmekten bahseder.**

**Yukarıda özellikleri verilen Sure aşağıdakilerden hangisidir?**

- A) Fatiha Suresi  
B) Kevser Suresi  
C) Alak Suresi  
D) İhlâs Suresi

2.



**Temizlik; maddi ve manevi temizlik olarak ikiye ayrılır. Aşağıdakilerden hangisi manevi temizliğe örnek olarak gösterilemez?**

- A) Temiz kıyafet giymek.  
B) Sözünde durmak.  
C) Vefalı olmak.  
D) Güvenilir olmak.

3.



- I- Haniflik – Dini  
II- Tarım ve Hayvancılık – Sosyal  
III- Hırsızlık – Ekonomik  
IV- Kabilecilik – Sosyal

Yukarıda Arabistan Yarımadası'nın dini, sosyal ve ekonomik özellikleri örneklerle eşleştirilmiştir.

**Eşleştirilen bu özelliklerden hangisi ya da hangileri yanlış olarak eşleştirilmiştir?**

- A) IV  
B) I ve III  
C) II ve IV  
D) II ve III

4. Kur'an-ı Kerim'in iç düzenini oluşturan öğeler vardır. Bunlar ayet, sure ve cüzdür.

**Buna göre aşağıdakilerden hangisi Kur'an-ı Kerim'in 114 suresinden biri değildir.**

- A) Regaip Suresi  
B) Muhammed Suresi  
C) Yasin Suresi  
D) İbrahim Suresi

5.



I	Kur'an-ı Kerim Zeyd bin Sabit başkanlığındaki bir komisyon tarafından kitap haline getirilmiştir.
II	Kur'an-ı Kerim Hz. Osman zamanında çoğaltılmıştır.
III	Oluşturulan ilk Kur'an-ı Kerim nüshasına Mushaf denmiştir.
IV	Kur'an-ı Kerim'in kitap haline getirilmesi Hz. Ebu Bekir zamanında kararlaştırılmıştır.
V	Çoğaltılan nüshalardan biri Medine'de bırakılarak diğerleri Müslümanların yoğun olarak yaşadığı merkezlere gönderilmiştir.

**Yukarıda verilen Kur'an-ı Kerim'in kitap haline getirilmesi ve çoğaltılması süreciyle ilgili cümlelerin doğru sıralanışı aşağıdakilerden hangisidir?**

- A) I - II - III - IV - V
- B) I - IV - III - II - V
- C) IV - III - I - II - V
- D) IV - I - III - II - V

**6. Aşağıdaki öğrencilerden hangisi Kelime-i Tevhit'in Türkçe anlamını doğru olarak söylemiştir?**

- A) Hasan: "Allah'tan başka ilah yoktur, Hz. Muhammed (s.a.v) O'nun kulu ve elçisidir".
- B) Ahmet: " Allah'tan başka ilah yoktur, Hz. Muhammed (s.a.v) Allah'ın elçisidir".
- C) Rukiye: " Allah'tan başka ilah yoktur, Hz. Muhammed (s.a.v) Allah'ın elçisi ve peygamberidir".
- D) Ayşe: "Şehadet ederim ki Hz. Muhammed (s.a.v) Allah'ın peygamberi ve elçisidir".

**7. Peygamberimiz Hz. Muhammed (s.a.v.) şöyle buyurdu: "Yolları, gölgelikleri ve insanların oturup dinlendikleri yerleri kirletmekten sakının."**

**Bu hadis-i şerif aşağıdaki temizlik çeşitlerinden hangisine örnek olarak gösterilebilir?**

- A) Kıyafet temizliği.
- B) Manevi temizlik.
- C) Çevre temizliği.
- D) Beden temizliği.

8.

Gece tırnak kesmek	Yalan söylemek
Çevreye zarar vermek	Anne-babaya saygılı olmamak

Yukarıdaki tabloda günah olan davranışları boyadığımızda tablonun yeni hali aşağıdakilerden hangisi olur?

- A) 

- B) 

- C) 

- D) 


9. Yüce Allah'ın (c.c) "Esmâ-ül Hüsna" (en güzel isimler) olarak adlandırılan doksan dokuz isminden "çok seven" anlamına gelen ismi aşağıdakilerden hangisidir.

- A) es-Selam  
B) el-Vedüd  
C) el-Hâlık  
D) es-Samed



### Arkadaş

Birbirini yürekten  
Sevmeli arkadaşlar.  
Şuna inanırım ki;  
Her şey sevmekle başlar.

Aşağıdaki hadis-i şeriflerden hangisi yukarıda verilen şüire ilişkilendirilemez.

- A) "İman etmedikçe cennete giremezsiniz. Birbirinizi sevmedikçe de gerçek anlamda iman etmiş olmazsınız."
- B) "Merhamet etmeyene, merhamet olunmaz."
- C) "Müslüman, insanların elinden ve dilinden emin olduğu kimsedir."
- D) "Ey Allah'ın kulları kardeş olunuz."

DİN KÜL. VE AH. BİL. TESTİ SONA ERMIŞTİR.  
İNGİLİZCE TESTİNE GEÇİNİZ.

1. Aşağıdakilerden hangisi diyalogu tamamlar?



A: Excuse me ! May I take your eraser?

B: Of course. ....

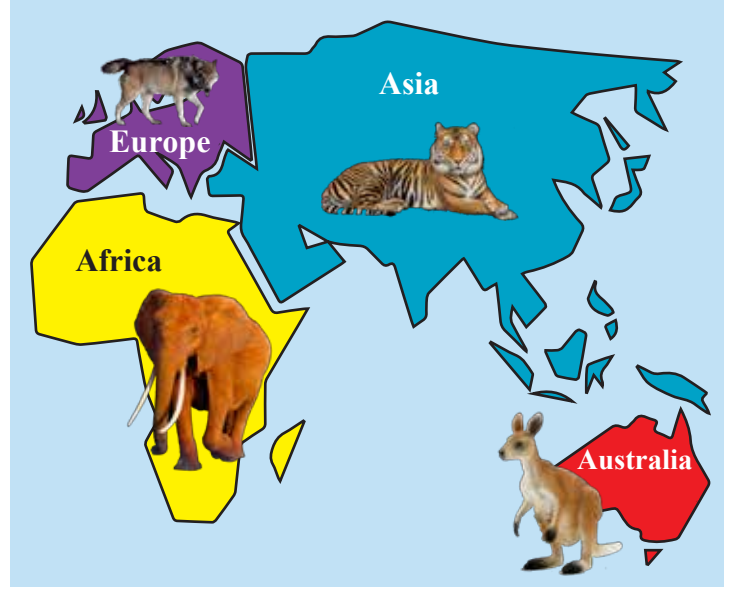
- A) Here you are.
- B) Say that again.
- C) Sorry, not right now.
- D) Thank you.

2. Görseldeki saati ifade eden cümle aşağıdakilerden hangisidir?



- A) It is one, forty.
- B) It is seven, fifteen.
- C) It is three, forty five
- D) It is five o'clock

3. Görsele göre cümleyi tamamlayan ifade hangisidir?



Elephants live in .....

- A) Asia
- B) Europe
- C) Africa
- D) Australia

4. Cümledeki boşluğa uygun ifade aşağıdakilerden hangisidir?

I am a ..... and  
I work at a .....



- A) nurse / hospital
- B) policeman / policestation
- C) teacher / school
- D) doctor / hospital

5. Görseli ifade eden kelime aşağıdakilerden hangisidir?



- A) Tube
- B) Magnifier
- C) Bottle
- D) Microscope


6. Görsele göre cümleyi doğru tamamlayan kelime aşağıdakilerden hangisidir?



I am a farmer and I work on a .....

- A) office
- B) hospital
- C) school
- D) farm

7. Görsele göre cümledeki boşluklara uygun gelen seçenek aşağıdakilerden hangisidir?



Ali can ..... but he can't .....

- A) listen to music / draw pictures
- B) do puzzles / ride a bike
- C) read a book / watch T.V.
- D) play the guitar / speak English

8. Görsele göre sorulması uygun olan soru hangisidir?



A: .....?  
B: Yes, I do.

- A) Do you like playing marbles?
- B) Do you like reading a book?
- C) Do you like playing football?
- D) Do you like watching T.V.

9. Aşağıdaki cümleleri anlamlı bir bütün olacak şekilde sıralayınız.

- I. I have my breakfast at 7:30.
- II. I wake up at 7 o'clock in the mornings.
- III. I wash my hands and face.
- IV. I go to school at 8 o'clock.

- A) I, IV, III, II
- B) III, IV, II, I
- C) II, III, I, IV
- D) IV, III, II, I

10. Görsele göre aşağıdaki seçeneklerden hangisi cümleyi doğru tamamlar.



10:30



11:00



12:15



12:30

I ..... at eleven o'clock.

- A) play computer games
- B) draw a picture
- C) play tennis
- D) listen to music

TEST SONA ERMİŞTİR.  
CEVAPLARINIZI KONTROL EDİNİZ.

Telefon : 0 (464) 344 32 27

Fax: : 0 (464) 344 31 95

Adres : Küçükcami Mah. Akçal Cad. No 38 - GÜNEYSU / RİZE